

REPRESENTACIÓN DE PUNTOS**Ejercicio nº 1.-**

Representa los puntos siguientes:

$$A(4, -1, 2), B(2, 3, 1) \text{ y } C(0, 4, 0)$$

Ejercicio nº 2.-

Representa los puntos siguientes:

$$A(2, 3, -4), B(5, 3, 0) \text{ y } C(0, 0, 4)$$

Ejercicio nº 3.-

Representa los puntos siguientes:

$$A(0, 5, 2), B(1, 3, 0) \text{ y } C(2, -3, 1)$$

Ejercicio nº 4.-

Representa los puntos siguientes:

$$A(0, 0, 2), B(3, 2, 4) \text{ y } C(4, -1, 3)$$

Ejercicio nº 5.-

Representa los puntos siguientes:

$$A(0, 3, 1), B(0, 3, 0) \text{ y } C(1, -2, 4)$$

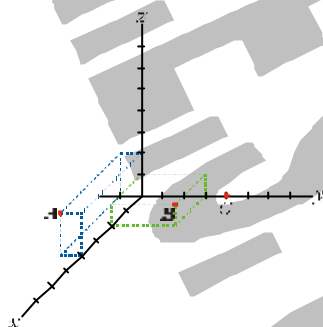
Ejercicio nº 6.-

Representa los puntos siguientes:

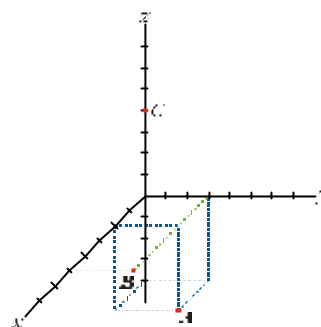
$$A(4, -1, 2), B(2, 3, 1) \text{ y } C(0, 4, 0)$$

SOLUCIONES

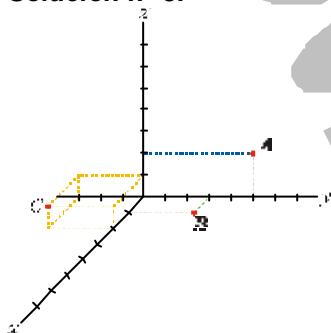
Solución nº 1:



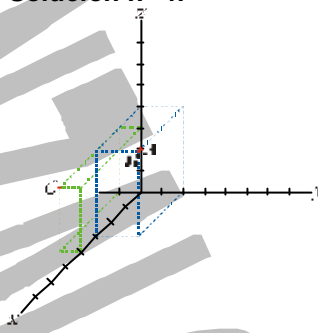
Solución nº 2:



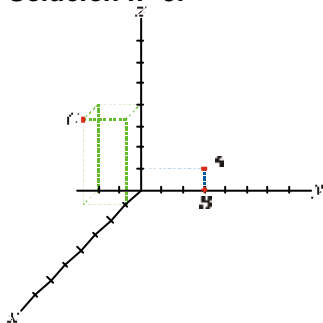
Solución nº 3:



Solución nº 4:



Solución nº 5:



Solución nº 6:

